

ΣΥΝΕΤΥΣ

1. Շախմատի աշխարհի n^o չեմպիոնն է եղել ՖԻԴԵ-ի նախագահ: Նշեք ճիշտ պատասխանը:

- 1) Մ. Էյվե
- 2) Գ. Կասպարով
- 3) Ա. Կարպով
- 4) Վ. Անանդ

2. Շախմատի աշխարհի n^o չեմպիոնն է ինքնուրույն սովորել 8 օտար լեզու: Նշեք ճիշտ պատասխանը:

- 1) Ռ. Ֆիշեր
- 2) Գ. Կասպարով
- 3) Մ. Տալ
- 4) Վ. Կրամնիկ

3. 20-րդ դարի սկզբում n^o վ առաջինը նվաճեց շախմատի աշխարհի չեմպիոնի կոչումը: Նշեք ճիշտ պատասխանը:

- 1) Էմ. Լասկեր
- 2) Ա. Ալյոխին
- 3) Խ. Ռ. Կապարլանկա
- 4) Մ. Բոտվիննիկ

4. Շախմատի աշխարհի n^o չեմպիոնն է գրանցվել Գինեսի ռեկորդների գրքում 10-րդ անգամ հաղթելով Դորտմունդի սուպերմրցաշարում: Նշեք ճիշտ պատասխանը:

- 1) Գ. Կասպարով
- 2) Մ. Կարլսեն
- 3) Վ. Կրամնիկ
- 4) Ա. Կարպով

5. Շախմատի աշխարհի չեմպիոններից ո՞վ է առանց խաղադաշտին նայելու խաղացել 48 պարտիա: Նշեք ճիշտ պատասխանը:

- 1) Ա. Ալյոխին
- 2) Մ. Տալ
- 3) Գ. Կասպարով
- 4) Մ. Կարլսեն

6. Սկզբնական դիրքից ամենաարագ մատը քանի՞ քայլից է հնարավոր: Նշեք ճիշտ պատասխանը:

- 1) 3
- 2) 4
- 3) 2
- 4) 5

7. Ո՞րը մարտավարական հնարք չէ: Նշեք ճիշտ պատասխանը:

- 1) Հրապուրում
- 2) Բաց գծի գրավում
- 3) Կապ
- 4) Գծային հարված

8. Սևերը մրցակցի զինվորին կողանցիկ վերցնելուց հետո ո՞ր հորիզոնական գծի վրա են հայտնվում: Նշեք ճիշտ պատասխանը:

- 1) 3
- 2) 4
- 3) 5
- 4) 6

9. Խաղադաշտի <<e4>> դաշտը երկու գծերի քանի՞ գույգի համար է ընդհանուր դաշտ: Նշեք ճիշտ պատասխանը:

- 1) 2
- 2) 4
- 3) 6
- 4) 5

10. Դատարկ խաղաղաշտի վրա ամենաշատը քանի՞ ձի է հնարավոր տեղադրել, որ միմյանց չհարվածեն: Նշեք ճիշտ պատասխանը:

- 1) 64
- 2) 32
- 3) 16
- 4) 28

11. Նշվածներից ո՞րն է համարվում դիրքային առավելություն: Նշեք ճիշտ պատասխանը:

- 1) Հրապուրում
- 2) Կրկնակի հարված
- 3) Կապ
- 4) Բաց գծի գրավում

12. Սկզբնական դիրքում կողմերից յուրաքանչյուրը քանի՞ հնարավոր քայլ ունի: Նշեք ճիշտ պատասխանը:

- 1) 16
- 2) 20
- 3) 12
- 4) 10

13. Ուսով հրում հնարքը ո՞ր խաղաքարով են կիրառում: Նշեք ճիշտ պատասխանը:

- 1) Նավակով
- 2) Թագուհիով
- 3) Արքայով
- 4) Փղով

14. Ո՞րը սկզբնախաղի կանոն չէ: Նշեք ճիշտ պատասխանը:

- 1) Ջարգացնել խաղաքարերը
- 2) Գրավել թույլ դաշտեր
- 3) Գրավել կենտրոնը
- 4) Կատարել փոխատեղում

15. Ամենաքիչը քանի՞ թագուհի է հնարավոր տեղադրել դատարկ խաղադաշտին, որ միմյանց չհարվածեն և բոլոր դաշտերը վերցնեն հարվածի տակ: Նշեք ճիշտ պատասխանը:

- 1) 8
- 2) 7
- 3) 6
- 4) 5

16. Բաց հարձակում իրականացնող կողմը քանի՞ խաղաքար պետք է ունենա մեկ գծի վրա: Նշեք ճիշտ պատասխանը:

- 1) 3
- 2) 2
- 3) 1
- 4) 4

17. Ինչպես են անվանել շախմատը հին հնդկաստանում: Նշեք ճիշտ պատասխանը:

- 1) Ճատրակ
- 2) Շատրանգ
- 3) Չատուրանգա
- 4) Ռենդյու

18. Նշվածներից ո՞րն է ռազմավարական հնարք: Նշեք ճիշտ պատասխանը:

- 1) Խեղդուկ մատ
- 2) Բաց հարձակում
- 3) Կանխարգելում
- 4) Կրկնակի հարված

19. Ցուզցվանգ երկքայլանի մատային խնդիրներ լուծելիս առավել հաճախ ո՞ր մեթոդն են կիրառում: Նշեք ճիշտ պատասխանը:

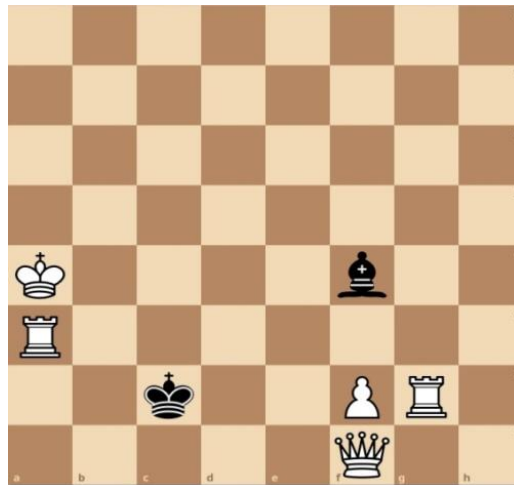
- 1) Հարց ու պատասխանի
- 2) Զրույցի
- 3) Քայլի հերթի փոխանցման
- 4) Խճանկար

20. Ձիով և փղով մատի վերաբերյալ հայտնի (W) վերլուծությունը ո՞ր աշխարհահռչակ շախմատիստին է պատկանում: Նշեք ճիշտ պատասխանը:

- 1) Վ. Ստեյնից
- 2) Ա. Անդերսեն
- 3) Պ. Մորֆի
- 4) Ֆ. Ֆիլիդոր

21. Տրված դիրքում քայլը սպիտակներինն է: Մատ երկու քայլից:

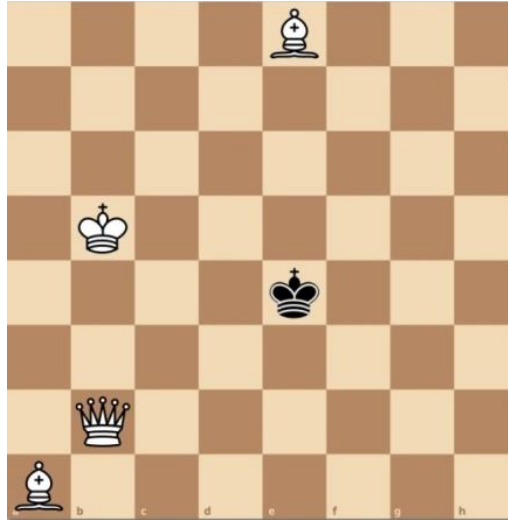
Նշեք առաջին ճիշտ քայլը:



Տրամագիր 1

- 1) 1. Նag3
- 2) 1.Թa1
- 3) 1.Նb3
- 4) 1.Նgg3

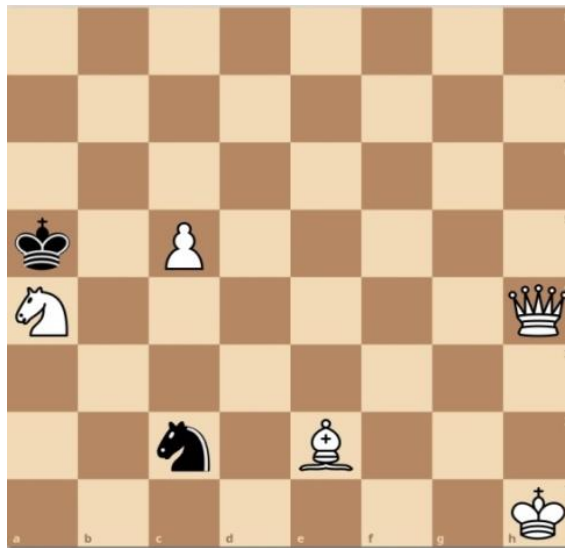
22. Տրված դիրքում քայլը սպիտակներինն է: Մատ երկու քայլից:
Նշեք առաջին ճիշտ քայլը:



Տրամագիր 2

- 1) 1. թc3
- 2) 1. Փf7
- 3) 1. թf2
- 4) 1. Փh5

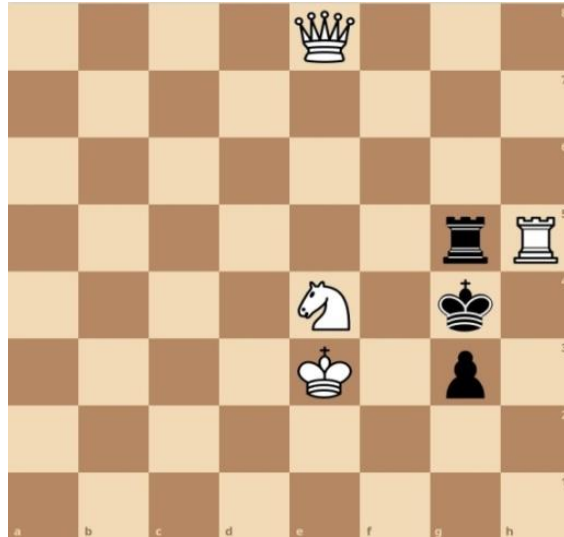
23. Տրված դիրքում քայլը սպիտակներինն է: Մատ երկու քայլից:
Նշեք առաջին ճիշտ քայլը:



Տրամագիր 3

- 1) 1. Ձb2
- 2) 1. Ձc3
- 3) 1.Թc4
- 4) 1.Թe4

24. Տրված դիրքում քայլը սպիտակներինն է: Մատ երկու քայլից:
Նշեք առաջին ճիշտ քայլը:



Տրամագիր 4

- 1) 1. Թg6
- 2) 1. Թg8
- 3) 1. Թh8
- 4) 1. Թf7

25. Տրված դիրքում քայլը սպիտակներին: Մատ երկու քայլից:
Նշեք առաջին ճիշտ քայլը

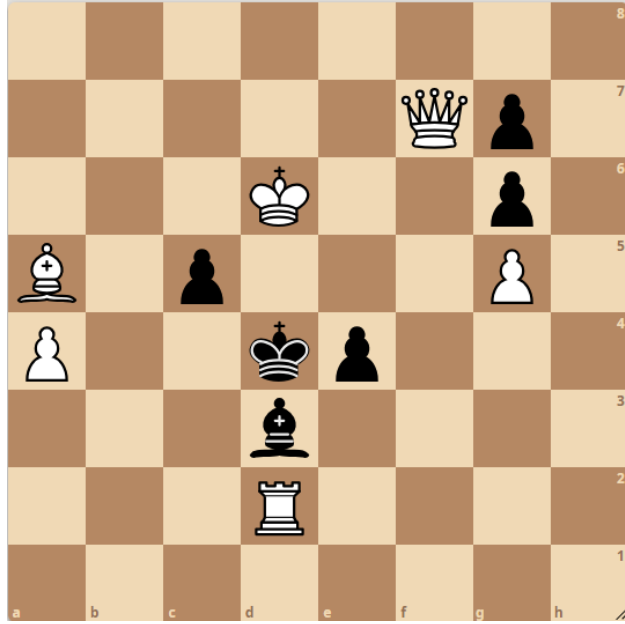


Տրամագիր 5

- 1) 1. Թc5
- 2) 1. Փh4
- 3) 1. Փd6
- 4) 1. Ձd5

26. Տրված դիրքում քայլը սպիտակներինն է, մատ երկու քայլից: Նշեք, թե սպիտակներն առաջին ճիշտ քայլը ո՞ր խաղաքարով պետք է կատարեն:

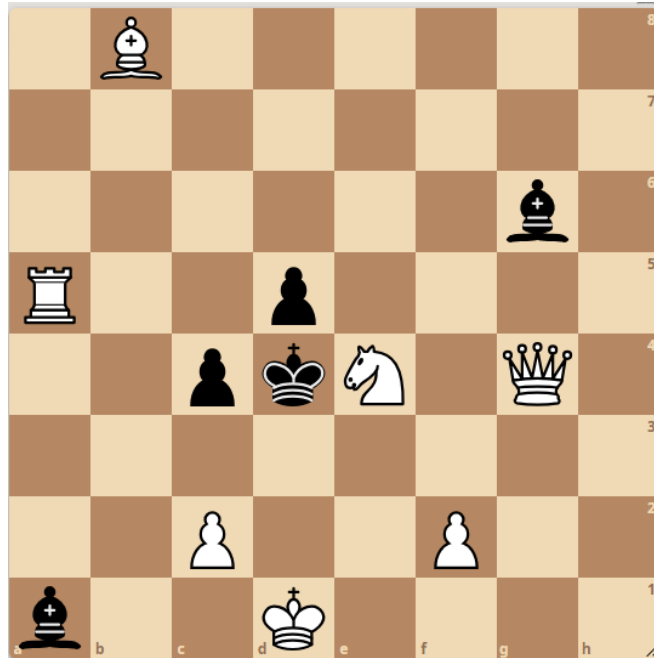
- 1) Թագուհիով
- 2) Արքայով
- 3) Նավակով
- 4) Փղով



Տրամագիր 6

27. Տրված դիրքում քայլը սպիտակներին է, մատ երկու քայլից: Նշեք, թե սպիտակներն առաջին ճիշտ քայլը ո՞ր խաղաքարով պետք է կատարեն:

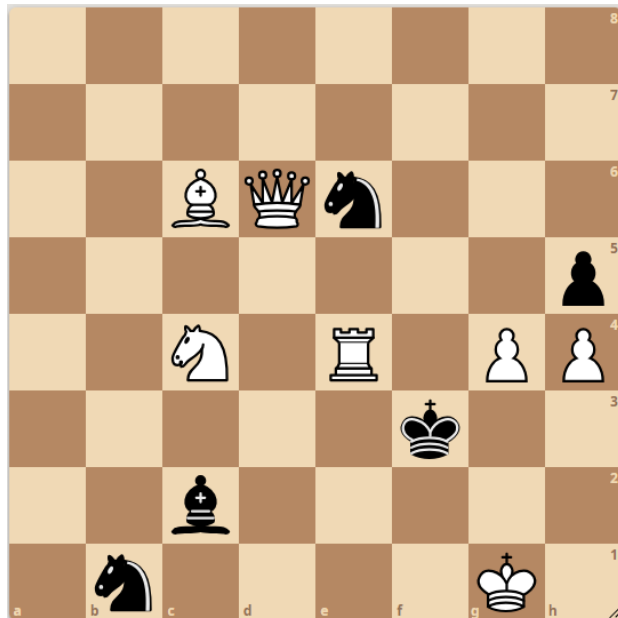
- 1) Նավակով
- 2) Արքայով
- 3) Փղով
- 4) Թագուհիով



Տրամագիր 7

28. Տրված դիրքում քայլը սպիտակներինն է, մատ երկու քայլից: Նշեք, թե սպիտակներն առաջին ճիշտ քայլը ո՞ր խաղաքարով պետք է կատարեն:

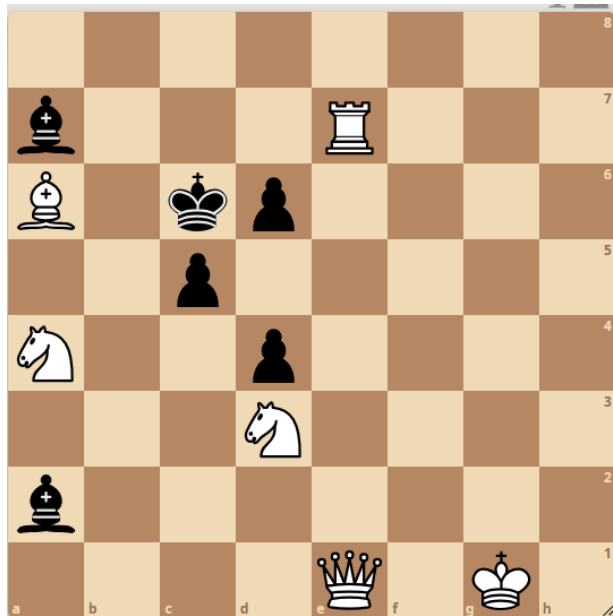
- 1) Թագուհիով
- 2) Փղով
- 3) Չիով
- 4) Նավակով



Տրամագիր 8


29. Տրված դիրքում քայլը սպիտակներինն է, մատ երկու քայլից: Նշեք, թե սպիտակներն առաջին ճիշտ քայլը ո՞ր խաղաքարով պետք է կատարեն:

- 1) Արքայով
- 2) Փղով
- 3) Թագուհիով
- 4) Նավակով



Տրամագիր 9

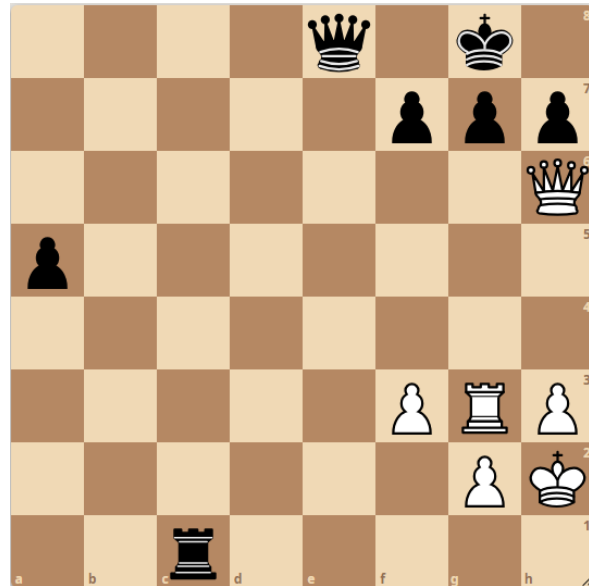
30. Տրված դիրքում քայլը սպիտակներինն է: Երկու կողմերի ճիշտ խաղի դեպքում նվազագույնը քանի՞ քայլից սպիտակները մատ կհայտարարեն: Նշեք ճիշտ պատասխանը:



Տրամագիր 10

- 1) 5
- 2) 4
- 3) 6
- 4) 3


31. Տրված դիրքում քայլը սևերինն է: Երկու կողմերի ճիշտ խաղի դեպքում նվազագույնը քանի՞ քայլից սևերը կստանան հաղթած դիրք: Նշեք ճիշտ պատասխանը:



Տրամագիր 11

- 1) 2
- 2) 3
- 3) 4
- 4) 1

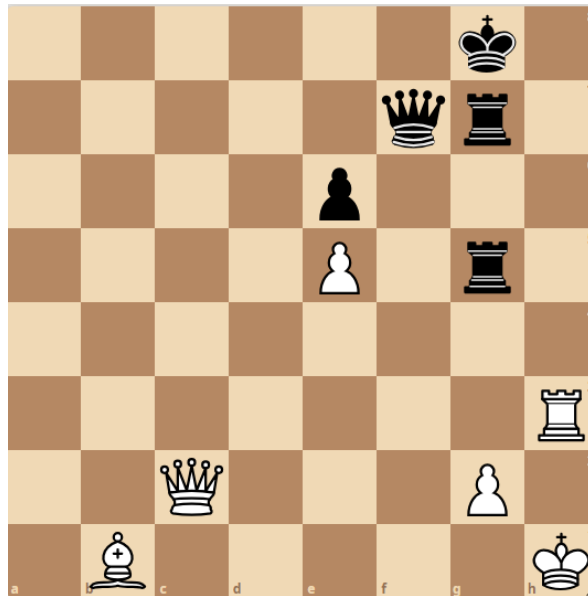
32. Տրված դիրքում քայլը սպիտակներինն է: Երկու կողմերի ճիշտ խաղի դեպքում նվազագույնը քանի՞ քայլից սպիտակները մատ կհայտարարեն: Նշեք ճիշտ պատասխանը:



Տրամագիր 12

- 1) 3
- 2) 4
- 3) 5
- 4) 6

33. Տրված դիրքում քայլը սպիտակներինն է: Երկու կողմերի ճիշտ խաղի դեպքում նվազագույնը քանի՞ քայլից սպիտակները մատ կհայտարարեն: Նշեք ճիշտ պատասխանը:



Տրամագիր 13

- 1) 4
- 2) 5
- 3) 6
- 4) 7

34. Տրված դիրքում քայլը սպիտակներինն է: Երկու կողմերի ճիշտ խաղի դեպքում նվազագույնը քանի՞ քայլից սպիտակները մատ կհայտարարեն: Նշեք ճիշտ պատասխանը:

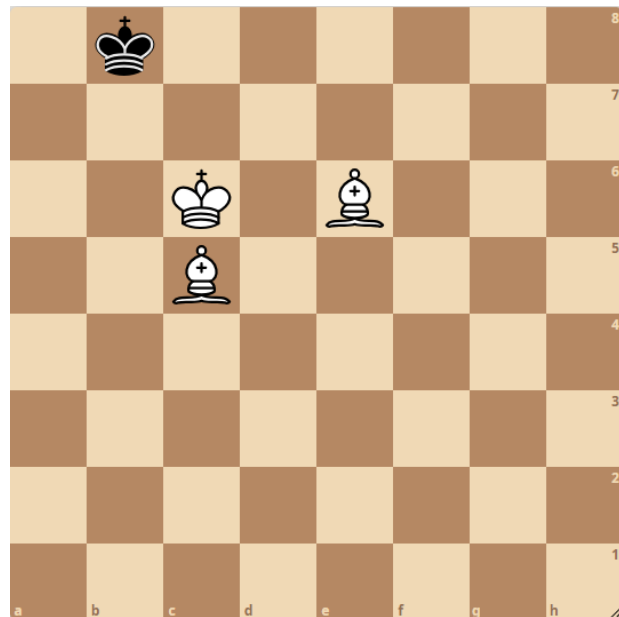


Տրամագիր 14

- 1) 3
- 2) 4
- 3) 5
- 4) 6

35. Տրված դիրքում քայլը սպիտակներինն է: Երկու կողմերի ճիշտ խաղի դեպքում նվազագույնը քանի՞ քայլից սպիտակները մատ կհայտարարեն: Նշեք ճիշտ պատասխանը:

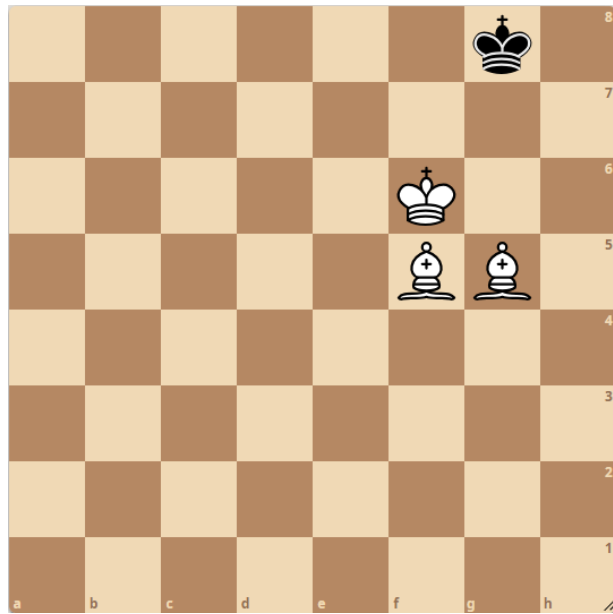
- 1) 5
- 2) 4
- 3) 3
- 4) 6



Տրամագիր 15

36. Տրված դիրքում քայլը սպիտակներինն է: Երկու կողմերի ճիշտ խաղի դեպքում նվազագույնը քանի՞ քայլից սպիտակները մատ կհայտարարեն: Նշեք ճիշտ պատասխանը:

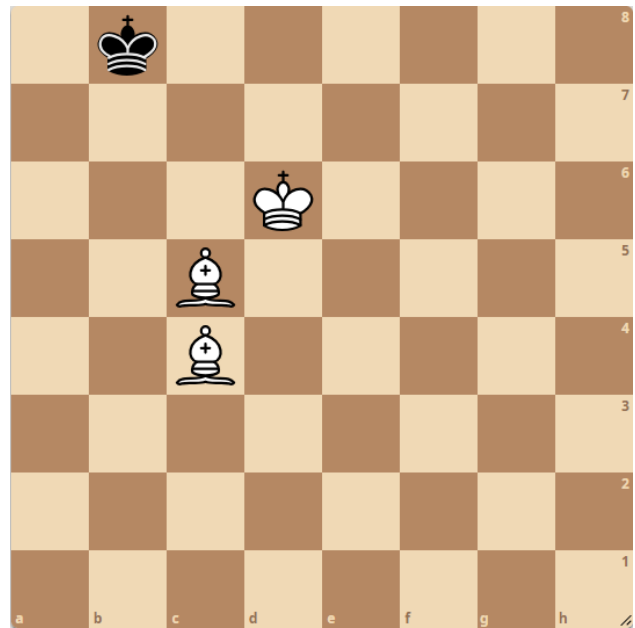
- 1) 3
- 2) 6
- 3) 5
- 4) 4



Տրամագիր 16

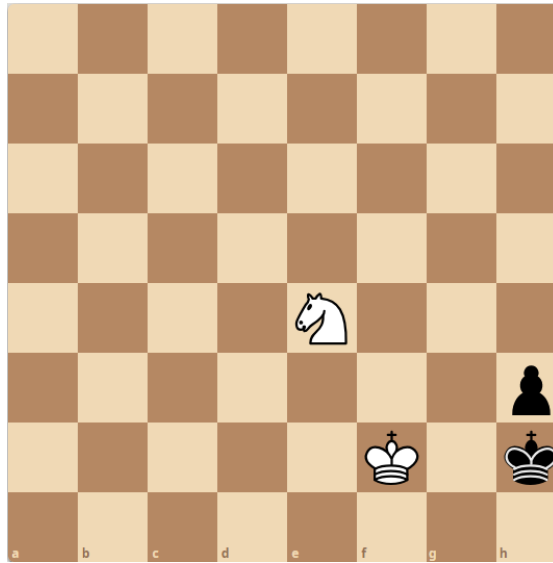
37. Տրված դիրքում քայլը սպիտակներինն է: Երկու կողմերի ճիշտ խաղի դեպքում նվազագույնը քանի՞ քայլից սպիտակները մատ կհայտարարեն: Նշեք ճիշտ պատասխանը:

- 1) 6
- 2) 5
- 3) 4
- 4) 3



Տրամագիր 17

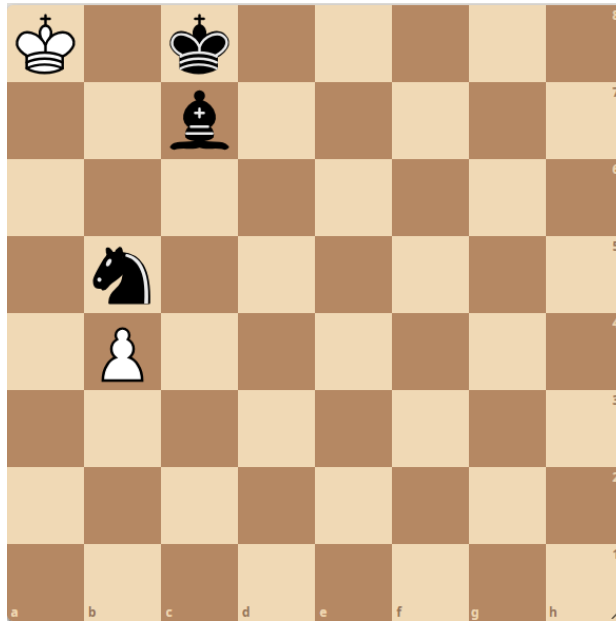
38. Տրված դիրքում քայլը սպիտակներինն է: Երկու կողմերի ճիշտ խաղի դեպքում նվազագույնը քանի՞ քայլից սպիտակները մատ կհայտարարեն: Նշեք ճիշտ պատասխանը:



Տրամագիր 18

- 1) 5
- 2) 4
- 3) 3
- 4) 2


39. Տրված դիրքում քայլը սպիտակներինն է: Երկու կողմերի ճիշտ խաղի դեպքում նվազագույնը քանի՞ քայլից սպիտակները մատ կհայտարարեն: Նշեք ճիշտ պատասխանը:



Տրամագիր 19

- 1) 4
- 2) 5
- 3) 3
- 4) 7

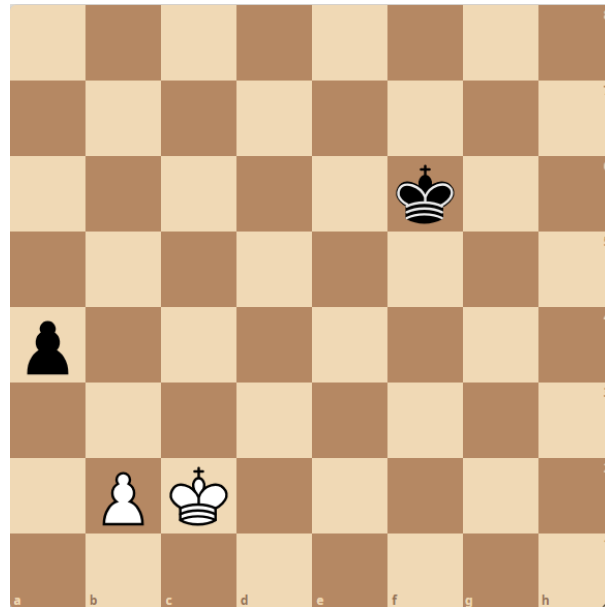
40. Տրված դիրքում քայլը սպիտակներինն է: Երկու կողմերի ճիշտ խաղի դեպքում նվազագույնը քանի՞ քայլից սպիտակները մատ կհայտարարեն: Նշեք ճիշտ պատասխանը:



Տրամագիր 20

- 1) 3
- 2) 4
- 3) 5
- 4) 6

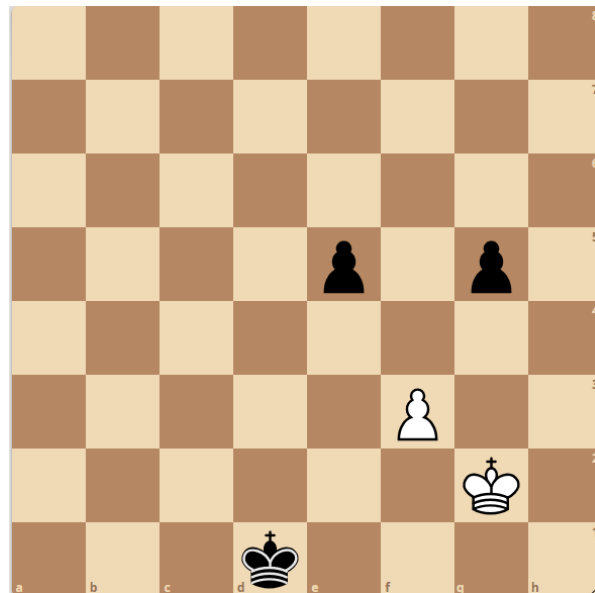
41. Տրված դիրքում քայլը սպիտակներինն է, հաղթանակ: Նշեք առաջին ճիշտ քայլը:



Տրամագիր 21

- 1) 1. Աc3
- 2) 1. Աc1
- 3) 1. Աb1
- 4) 1. Աd3

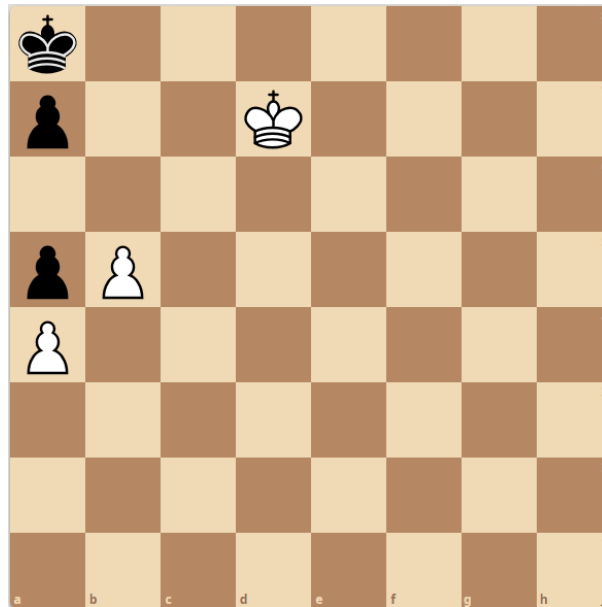
42. Տրված դիրքում քայլը սպիտակներինն է, ոչ-ոքի: Նշեք առաջին ճիշտ քայլը:



Տրամագիր 22

- 1) 1. Աf1
- 2) 1. Աf2
- 3) 1. Աh1
- 4) 1. Աg3

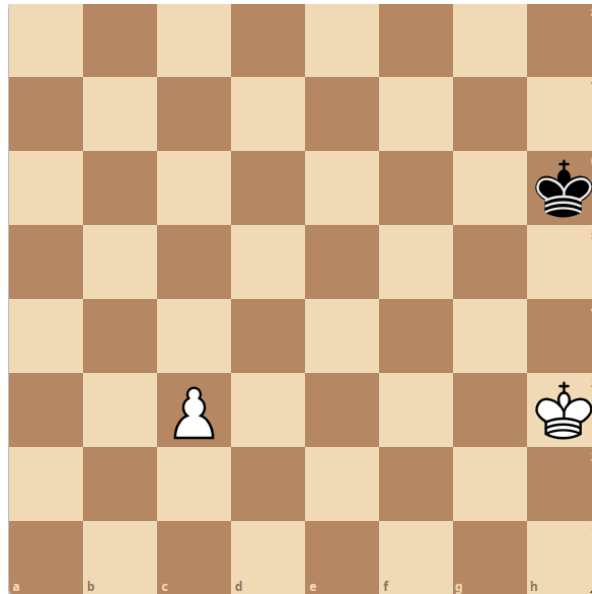
43. Տրված դիրքում քայլը սպիտակներինն է, հաղթանակ: Նշեք առաջին ճիշտ քայլը:



Տրամագիր 23

- 1) 1. Աc8
- 2) 1. Աc7
- 3) 1.Աc6
- 4) 1. Աd8

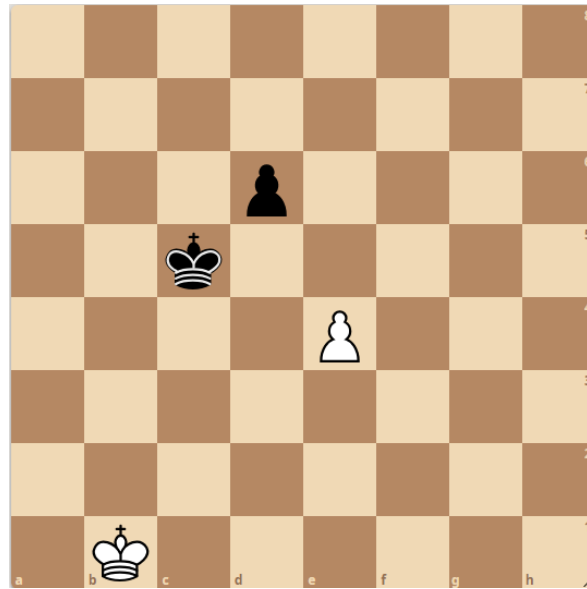
44. Տրված դիրքում քայլը սպիտակներինն է, հաղթանակ: Նշեք առաջին ճիշտ քայլը:



Տրամագիր 24

- 1) 1. Ug4
- 2) 1. Ug3
- 3) 1. Uh4
- 4) 1. c4

45. Տրված դիրքում քայլը սպիտակներինն է, ոչ-ոքի: Նշեք առաջին ճիշտ քայլը:

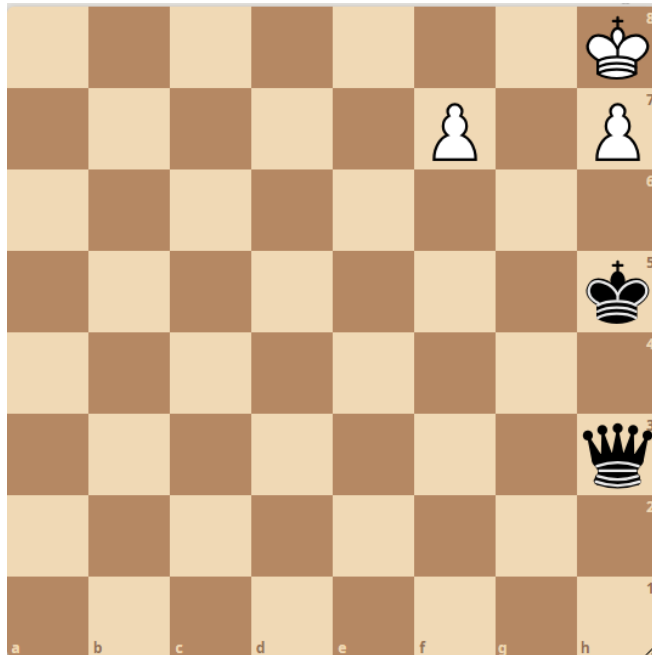


Տրամագիր 25

- 1) 1. Uc2
- 2) 1. e5
- 3) 1. Uc1
- 4) 1. Ub2

46. Տրված դիրքում քայլը սևերինն է: Երկու կողմերի ճիշտ խաղի դեպքում նվազագույնը քանի՞ քայլից սևերը մատ կհայտարարեն: Նշեք ճիշտ պատասխանը:

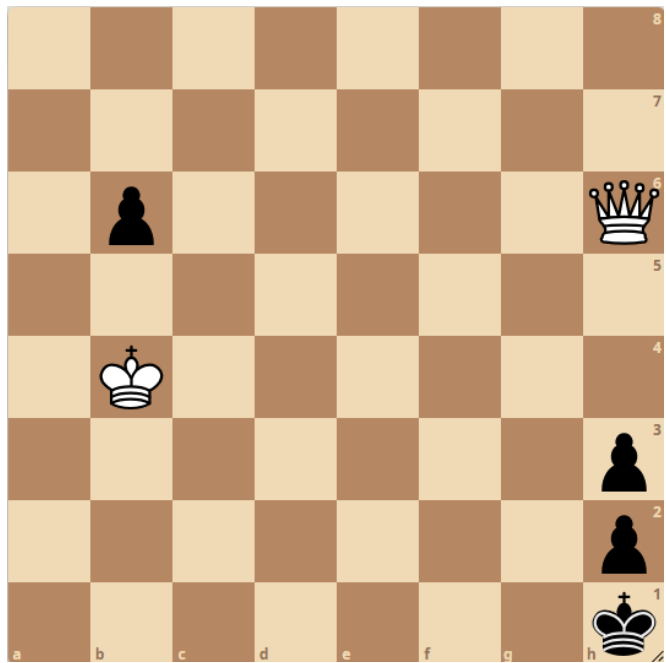
- 1) 3
- 2) 4
- 3) 5
- 4) 6



Տրամագիր 26

47. Տրված դիրքում քայլը սպիտակներինն է: Երկու կողմերի ճիշտ խաղի դեպքում նվազագույնը քանի՞ քայլից սպիտակները մատ կհայտարարեն: Նշեք ճիշտ պատասխանը:

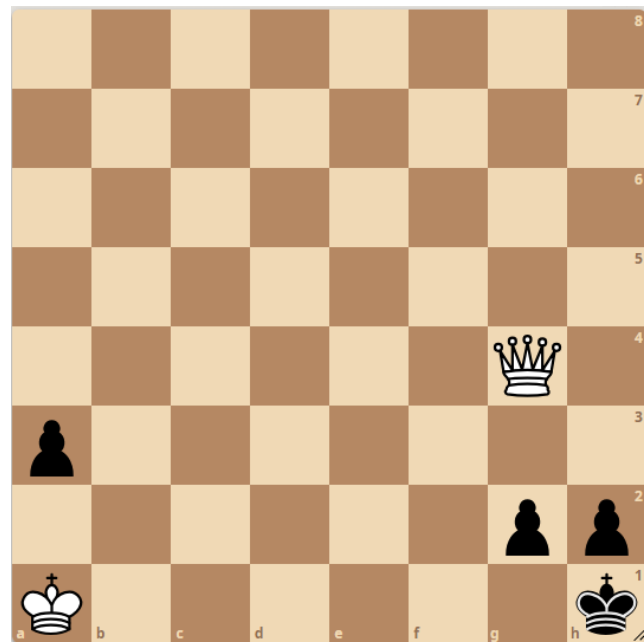
- 1) 5
- 2) 4
- 3) 3
- 4) 6



Տրամագիր 27

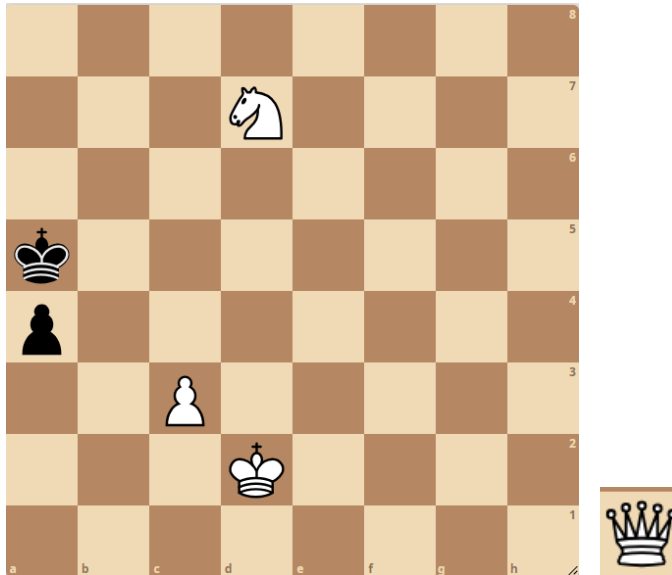
48. Տրված դիրքում քայլը սպիտակներինն է: Երկու կողմերի ճիշտ խաղի դեպքում նվազագույնը քանի՞ քայլից սպիտակները մատ կհայտարարեն: Նշեք ճիշտ պատասխանը:

- 1) 5
- 2) 6
- 3) 4
- 4) 3



Տրամագիր 28

49. Խաղադաշտից դուրս գտնվող թագուհին տեղադրել խաղադաշտին այնպես, որ ստացվի երկքայլանի մատային դիրք: Օգտվել լուծում տարբերակներից: Նշել թագուհու գտնվելու դաշտը: Նշեք ճիշտ պատասխանը:



Տրամագիր 29

Լուծում տարբերակներ՝ 1) 1. c3-c4 a4-a3 2. Թ...xa3#

2) 1. c3-c4 Ua5-a6 2. Թ...-a8#

3) 1. c3-c4 Ua5-b4 2. Թ...-c3#

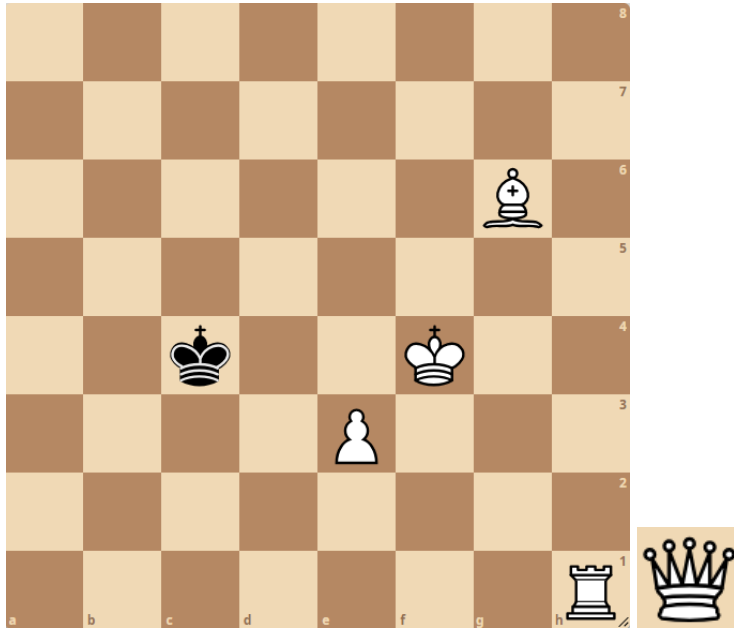
1) f8

2) f3

3) d6

4) e7

50. Խաղադաշտից դուրս գտնվող թագուհին տեղադրել խաղադաշտին այնպես, որ ստացվի երկքայլանի մատային դիրք: Օգտվել լուծում տարբերակից: Նշել թագուհու գտնվելու դաշտը: Նշեք ճիշտ պատասխանը:

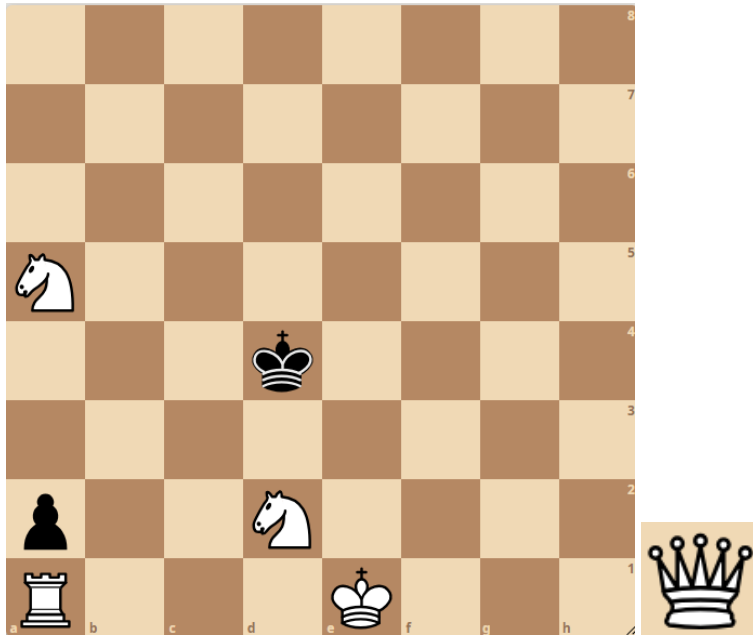


Տրամագիր 30

Լուծում տարբերակ՝ 1. Նh1-h6 Աc4-b5 2. Փg6-d3#:

- 1) a1
- 2) a3
- 3) a7
- 4) a8

51. Խաղադաշտից դուրս գտնվող թագուհին տեղադրել խաղադաշտին այնպես, որ ստացվի երկքայլանի մատային դիրք: Օգտվել լուծում տարբերակից: Նշել թագուհու գտնվելու դաշտը: Նշեք ճիշտ պատասխանը:



Տրաբերակ 31

Լուծում տարբերակ՝ 1. 0-0-0 a2-a1=Թ+ 2. Ձd2-b1#:

1) e7

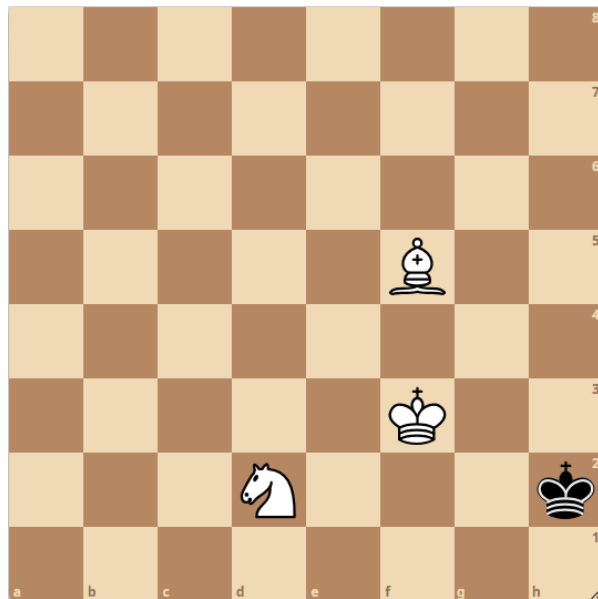
2) e6

3) e8

4) f8

52. Տրված դիրքում քայլը սպիտակներինն է: Երկու կողմերի ճիշտ խաղի դեպքում նվազագույնը քանի՞ քայլից սպիտակները մատ կհայտարարեն: Նշեք ճիշտ պատասխանը:

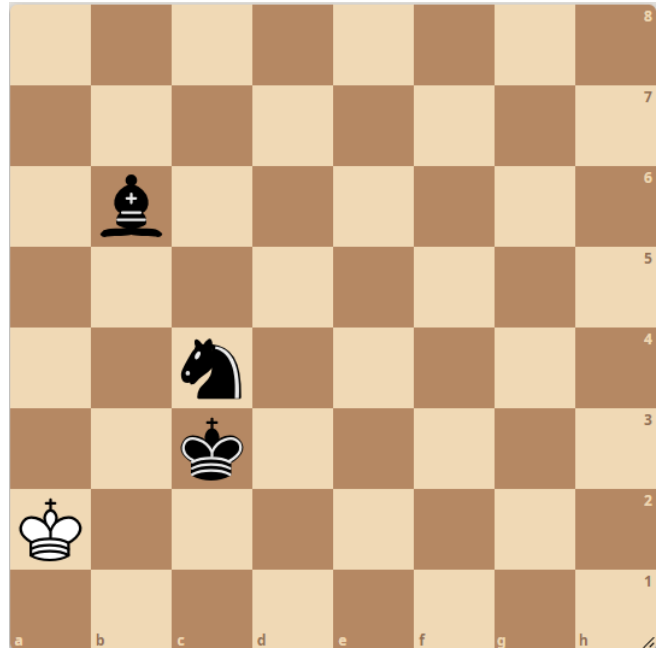
- 1) 4
- 2) 5
- 3) 3
- 4) 6



Տրամագիր 32

53. Տրված դիրքում քայլը սևերինն է: Մաս հինգ քայլից: Նշեք առաջին ճիշտ քայլը:

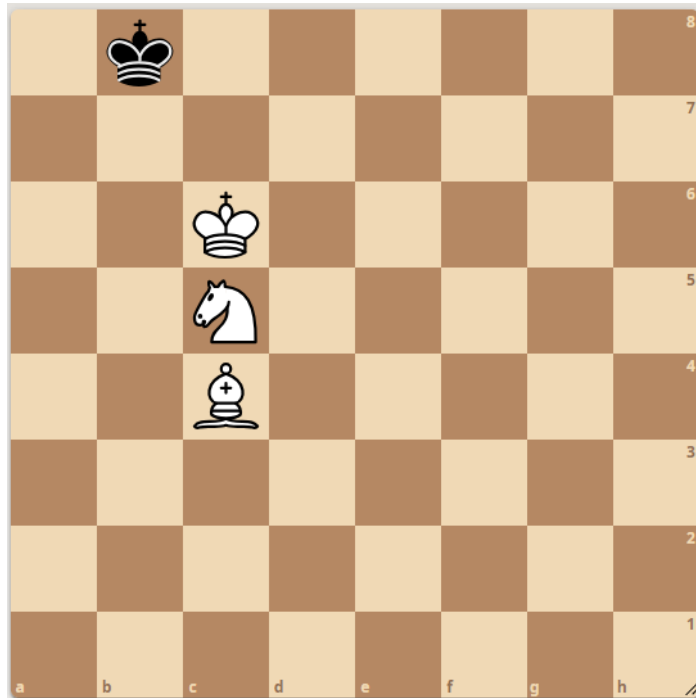
- 1) 1...Փe3
- 2) 1...Աc2
- 3) 1...Փc5
- 4) 1...Փd4



Տրամագիր 33

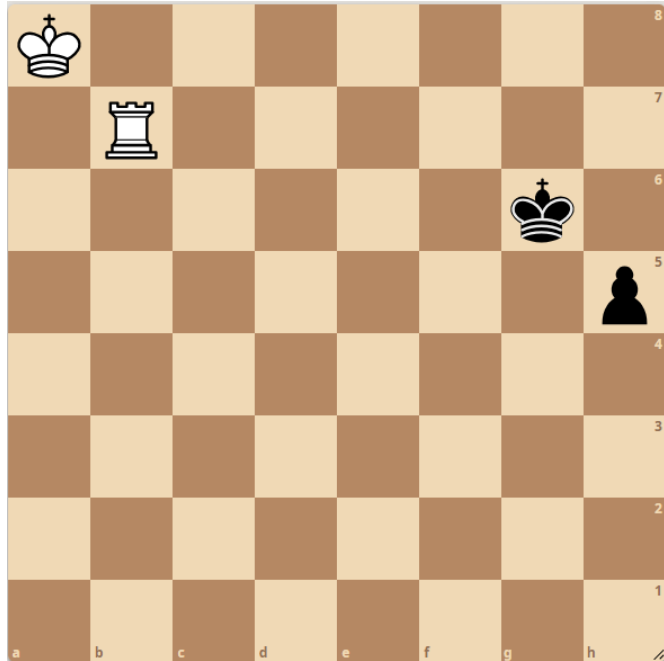
54. Տրված դիրքում քայլը սպիտակներինն է: Մատ հինգ քայլից: Նշեք առաջին ճիշտ քայլը:

- 1) 1.Փe6
- 2) 1. Աb6
- 3) 1. Փa6
- 4) 1. Չe6



Տրամագիր 34

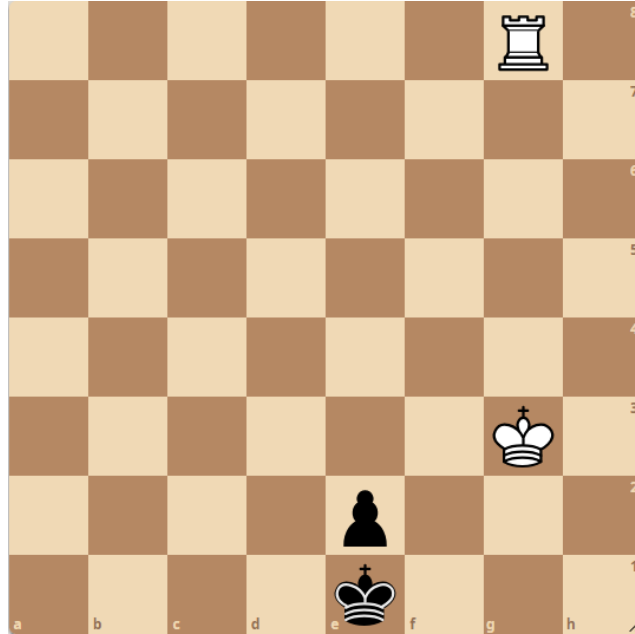
55. Տրված դիրքում քայլը սպիտակներինն է, հաղթանակ: Նշեք առաջին ճիշտ քայլը:



Տրամագիր 35

- 1) 1. Նb5
- 2) 1. Նb4
- 3) 1. Նb3
- 4) 1. Նb2

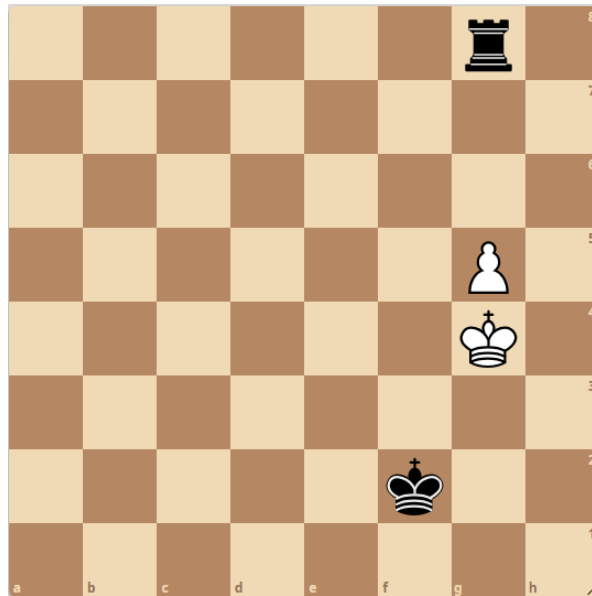
56. Տրված դիրքում քայլը սպիտակներինն է, հաղթանակ: Նշեք առաջին ճիշտ քայլը:



Տրամագիր 36

- 1) 1.Նh8
- 2) 1.Աg2
- 3) 1.Աf3
- 4) 1.Նa8

57. Տրված դիրքում քայլը սևերինն է, սևերը հաղթում են: Նշեք առաջին ճիշտ քայլը:

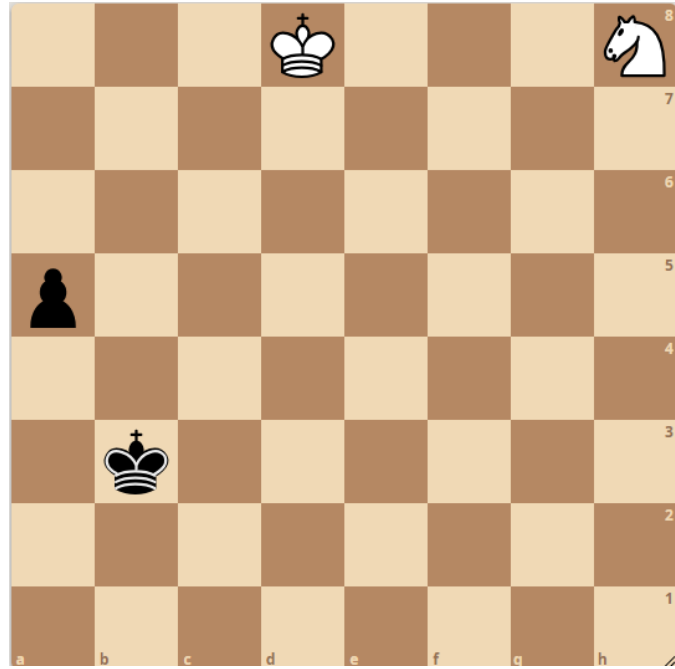


Տրամագիր 37

- 1) 1....Նf8
- 2) 1....Նh8
- 3) 1....Աg2
- 4) 1....Աe3

58. Տրված դիրքում քայլը սպիտակներինն է, ոչ-ոքի: Նշեք առաջին ճիշտ քայլը:

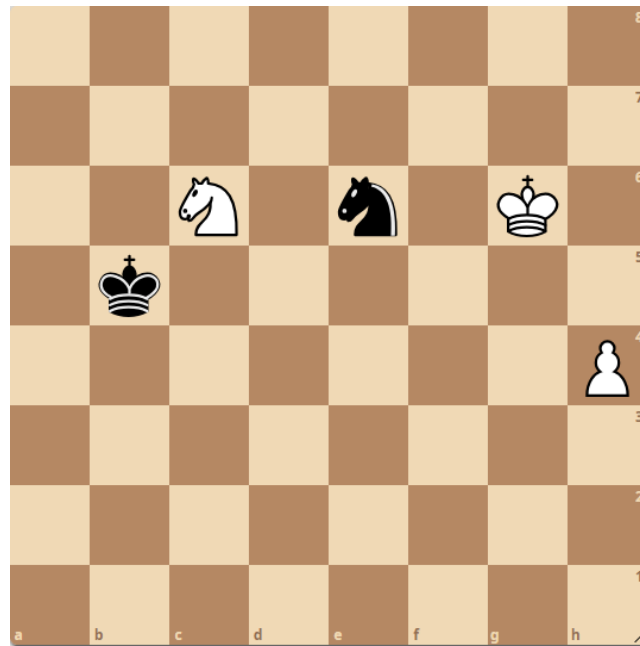
- 1) 1. Աc7
- 2) 1. Չg6
- 3) 1. Աd7
- 4) 1. Չf7



Տրամագիր 38

59. Տրված դիրքում քայլը սպիտակներինն է, հաղթանակ: Նշեք առաջին ճիշտ քայլը:

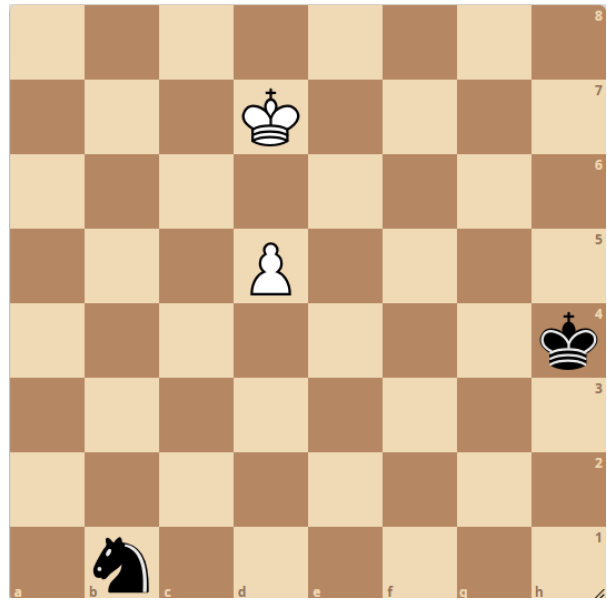
- 1) 1. h5
- 2) 1. Աf6
- 3) 1. Աf7
- 4) 1. Չd4+



Տրամագիր 39

60. Տրված դիրքում քայլը սպիտակներինն է, հաղթանակ: Նշեք առաջին ճիշտ քայլը:

- 1) 1. Աc6
- 2) 1. Աc7
- 3) 1. d6
- 4) 1. Աc8



Տրամագիր 40